

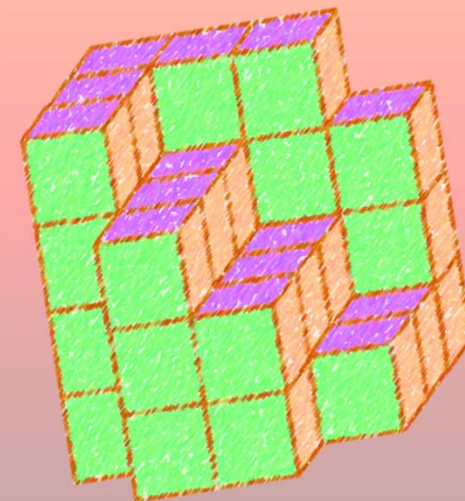
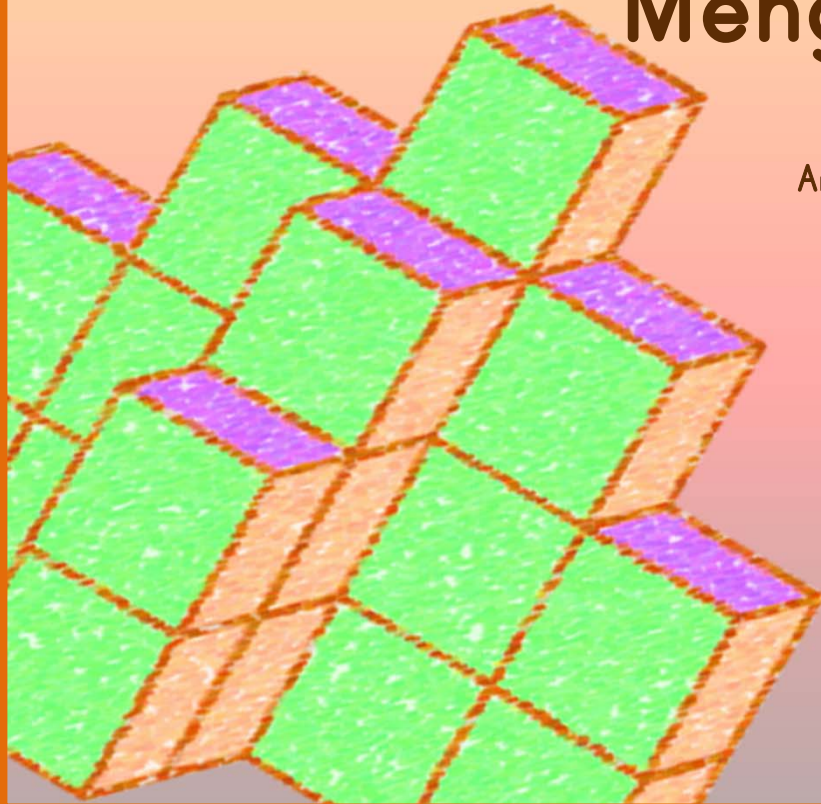
USIA
8++

Buku Latihan Anak-anak

Menghitung Kubus

oleh

Anies Hannawati Purnamadjaja



Buku Latihan Anak-anak Menghitung Kubus

Aktivitas di dalam buku ini disusun untuk meningkatkan kemampuan spasial anak. Ada beberapa bangun tiga dimensi yang terdiri dari kubus-kubus kecil. Anak-anak akan menggunakan kemampuan spasial mereka untuk menentukan berapa jumlah kubus yang membentuk bangun-bangun tersebut. Mereka juga akan menentukan proyeksi bangun: tampak depan, tampak atas dan tampak samping. Menyusun bangun dengan menggunakan alat peraga kubus atau balok akan membantu proses visualisasi anak-anak. Bantuan dari guru atau orang tua dalam proses pembelajaran juga sangatlah diharapkan. Buku ini ditujukan untuk anak-anak berusia 8 tahun ke atas.

Buku gratis untuk anak-anak ini diproduksi oleh Peace of Mind Education. Kunjungilah situs kami di <http://peaceofmindeducationindonesia.wordpress.com> untuk menerima pemberitahuan buku-buku gratis baru melalui e-mail. Komentar dan kritik dari para orang tua, guru dan anak-anak sangat kami hargai. Harapan kami semoga buku ini bermanfaat bagi semua pihak yang membutuhkannya.

Hak cipta © 2012 by Anies Hannawati Purnamadjaja,
Peace of Mind Education
<http://peaceofmindeducationindonesia.wordpress.com>

UCAPAN TERIMA KASIH

INSPIRASI

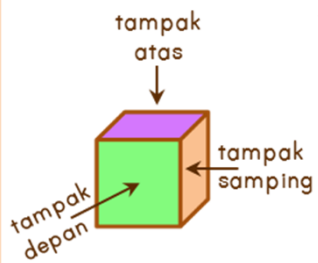
Teresa Iskandar

HURUF

Print Clearly, Jess Latham, Blue Vinyl Fonts, <http://www.bvfonts.com>



Hasil karya ini berlisensi di bawah naungan
[Creative Commons Attribution - NonCommercial - ShareAlike 3.0 Unported License](http://creativecommons.org/licenses/by-nc-sa/3.0/).



Ada berapa jumlah kubus?

1

Mana gambar tampak depan?

B

Mana gambar tampak atas?

C

Mana gambar tampak samping?

A



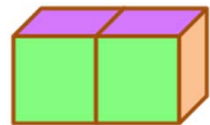
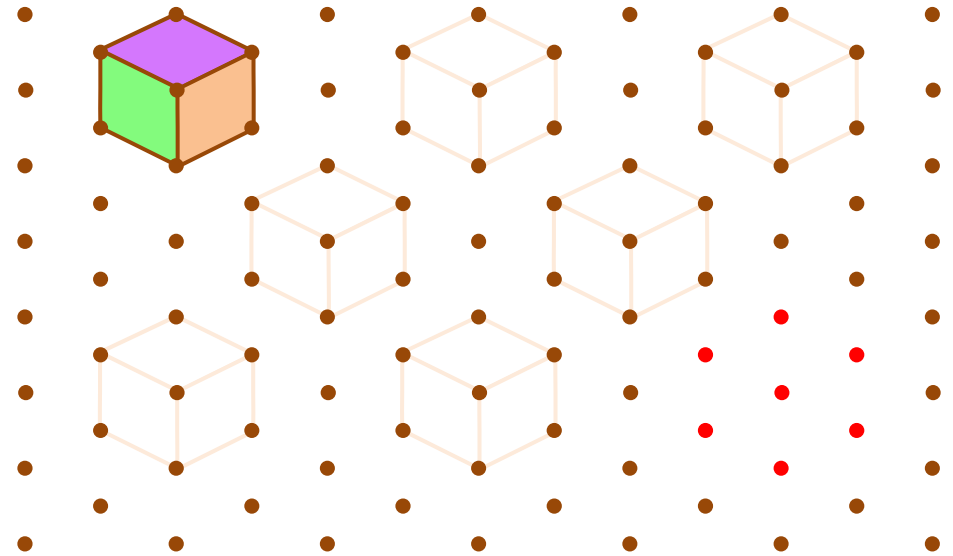
A



B



C



Ada berapa jumlah kubus?


Mana gambar tampak depan?

Mana gambar tampak atas?

Mana gambar tampak samping?



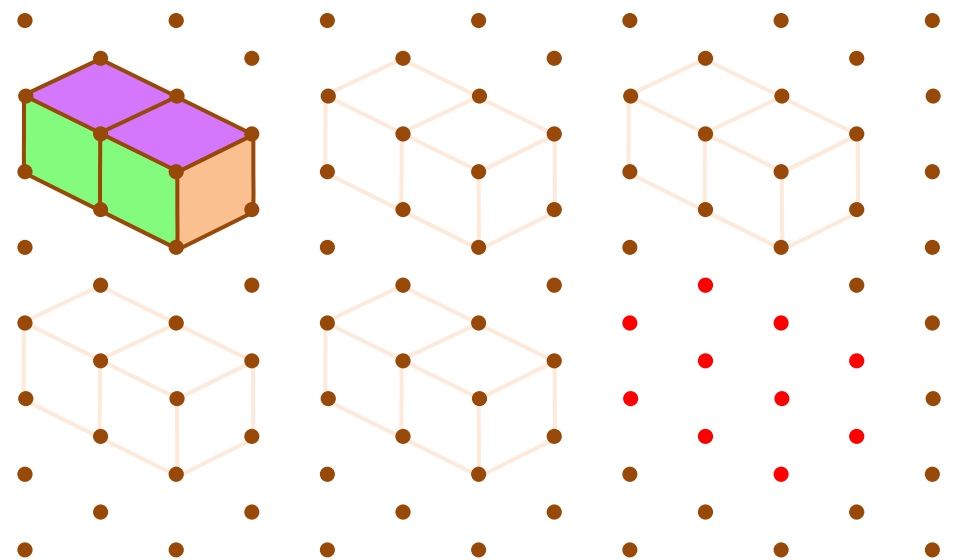
A



B



C



BUKU GRATIS UNTUK ANAK-ANAK • TIDAK UNTUK DIPERJUAL-BELIKAN

BUKU GRATIS UNTUK ANAK-ANAK • TIDAK UNTUK DIPERJUAL-BELIKAN



Nama : _____

Tanggal : _____

Guru atau orang tua:



Sebelah kiri, lengkapilah bagian-bagian yang kosong dengan jawaban yang tepat.
Sebelah kanan, tebalkan garis-garis dan hubungkan titik-titik kubus di atas.






Ada berapa jumlah kubus?

Mana gambar tampak depan?

Mana gambar tampak atas?

Mana gambar tampak samping?



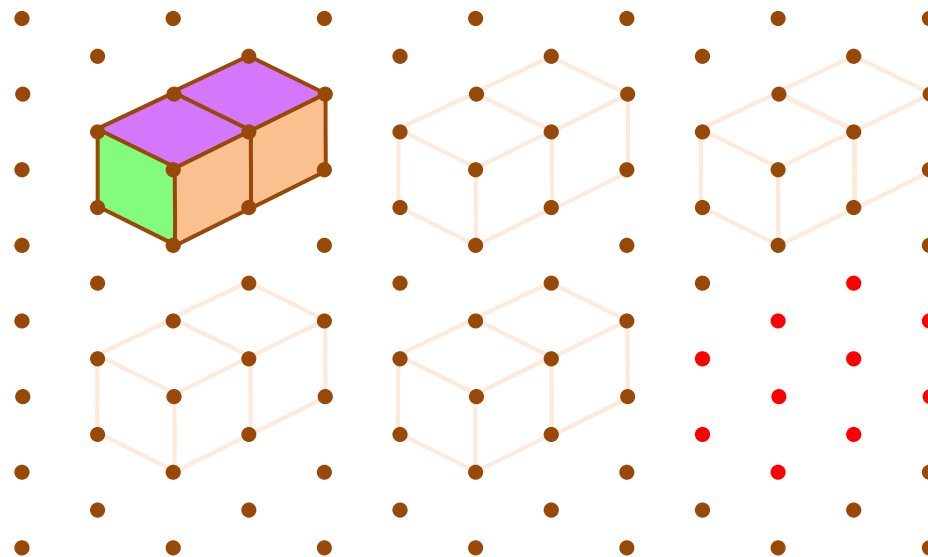
A



B



C




Ada berapa jumlah kubus?

Mana gambar tampak depan?

Mana gambar tampak atas?

Mana gambar tampak samping?



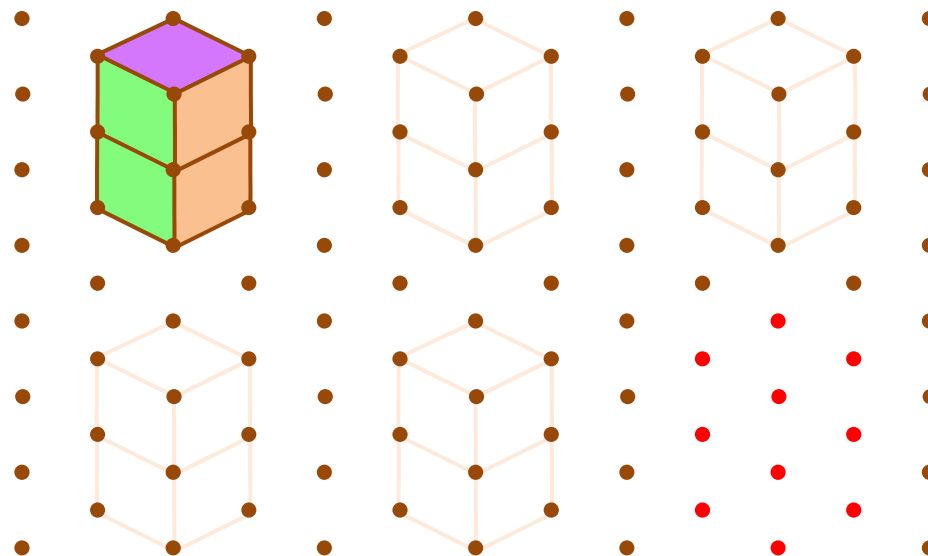
A



B



C



BUKU GRATIS UNTUK ANAK-ANAK • TIDAK UNTUK DIPERJUAL-BELIKAN

BUKU GRATIS UNTUK ANAK-ANAK • TIDAK UNTUK DIPERJUAL-BELIKAN

2

Nama : _____

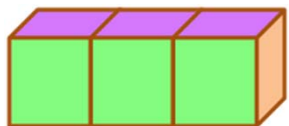
Tanggal : _____

Guru atau orang tua:



Sebelah kiri, lengkapi bagian-bagian yang kosong dengan jawaban yang tepat.
Sebelah kanan, tebalkan garis-garis dan hubungkan titik-titik kubus di atas.





Ada berapa jumlah kubus?


Mana gambar tampak depan?

Mana gambar tampak atas?

Mana gambar tampak samping?



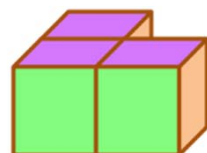
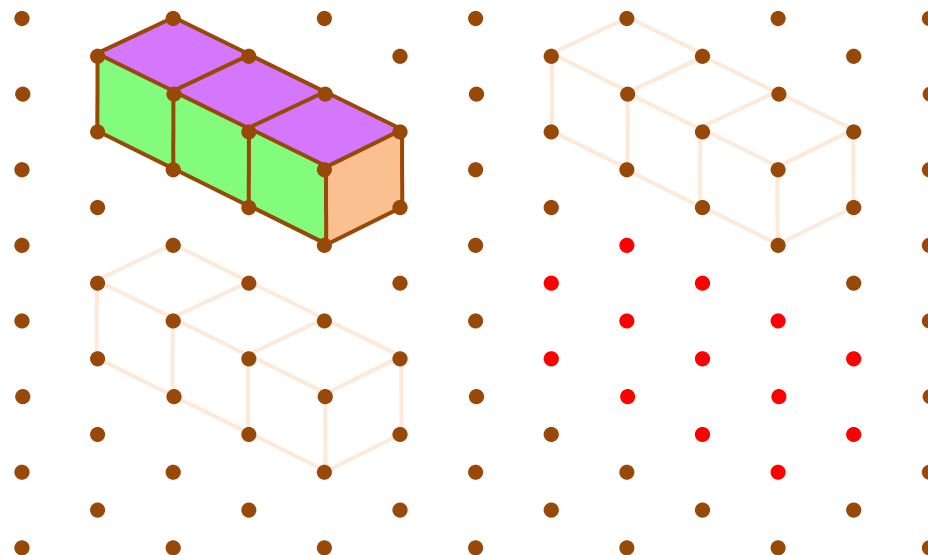
A



B



C



Ada berapa jumlah kubus?

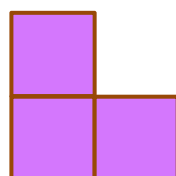
Mana gambar tampak depan?

Mana gambar tampak atas?


Mana gambar tampak samping?



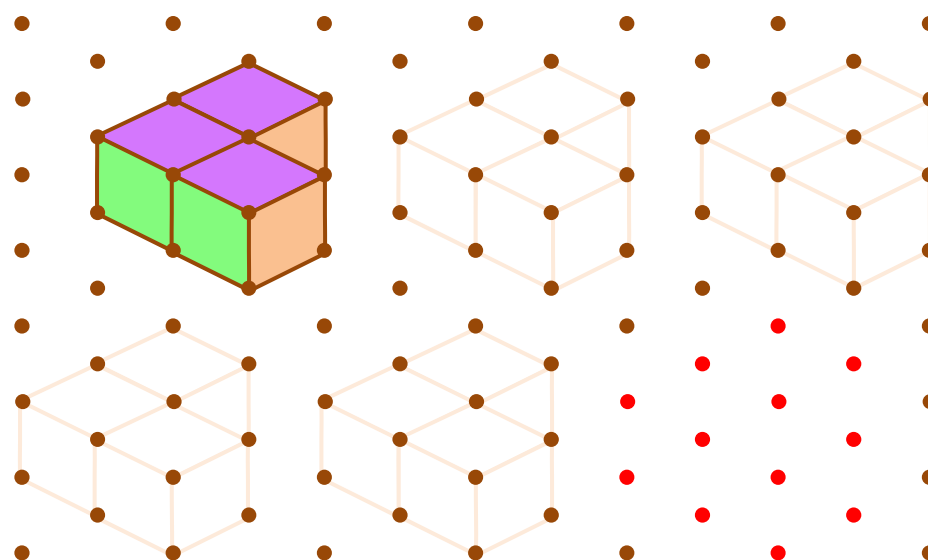
A



B



C



BUKU GRATIS UNTUK ANAK-ANAK • TIDAK UNTUK DIPERJUAL-BELIKAN

BUKU GRATIS UNTUK ANAK-ANAK • TIDAK UNTUK DIPERJUAL-BELIKAN

3

Nama : _____

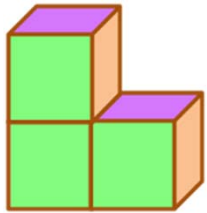
Tanggal : _____

Guru atau orang tua:



Sebelah kiri, lengkapi bagian-bagian yang kosong dengan jawaban yang tepat.
Sebelah kanan, tebalkan garis-garis dan hubungkan titik-titik kubus di atas.





Ada berapa jumlah kubus?

Mana gambar tampak depan?

Mana gambar tampak atas?

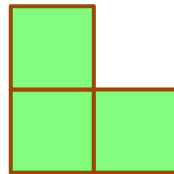
Mana gambar tampak samping?



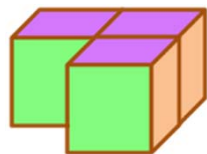
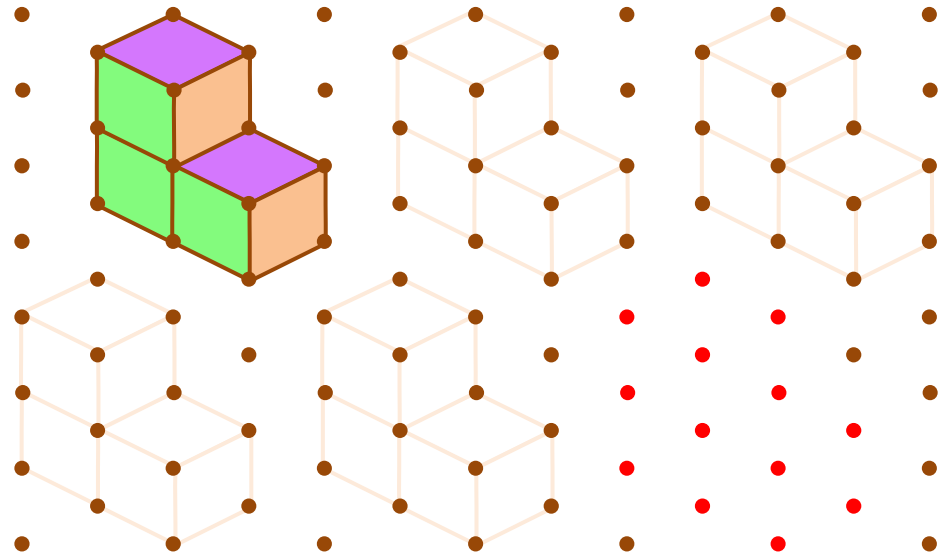
A



B



C



Ada berapa jumlah kubus?


Mana gambar tampak depan?

Mana gambar tampak atas?


Mana gambar tampak samping?



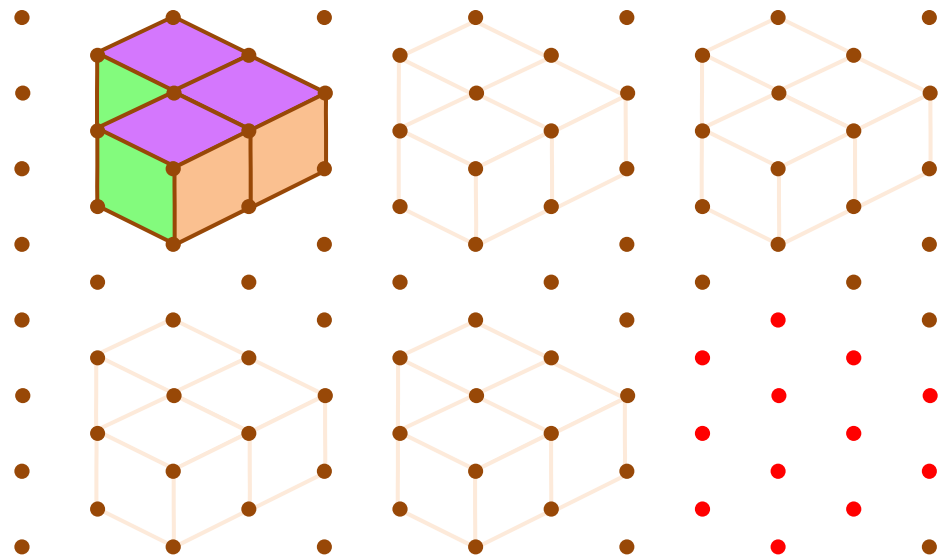
A



B



C



BUKU GRATIS UNTUK ANAK-ANAK • TIDAK UNTUK DIPERJUAL-BELIKAN

BUKU GRATIS UNTUK ANAK-ANAK • TIDAK UNTUK DIPERJUAL-BELIKAN



Nama : _____

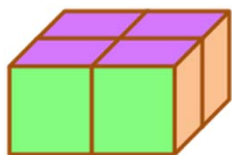
Tanggal : _____

Guru atau orang tua:



Sebelah kiri, lengkapi bagian-bagian yang kosong dengan jawaban yang tepat.
Sebelah kanan, tebalkan garis-garis dan hubungkan titik-titik kubus di atas.





Ada berapa jumlah kubus?

Mana gambar tampak depan?

Mana gambar tampak atas?


Mana gambar tampak samping?



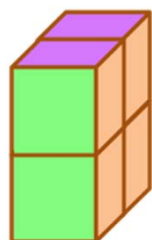
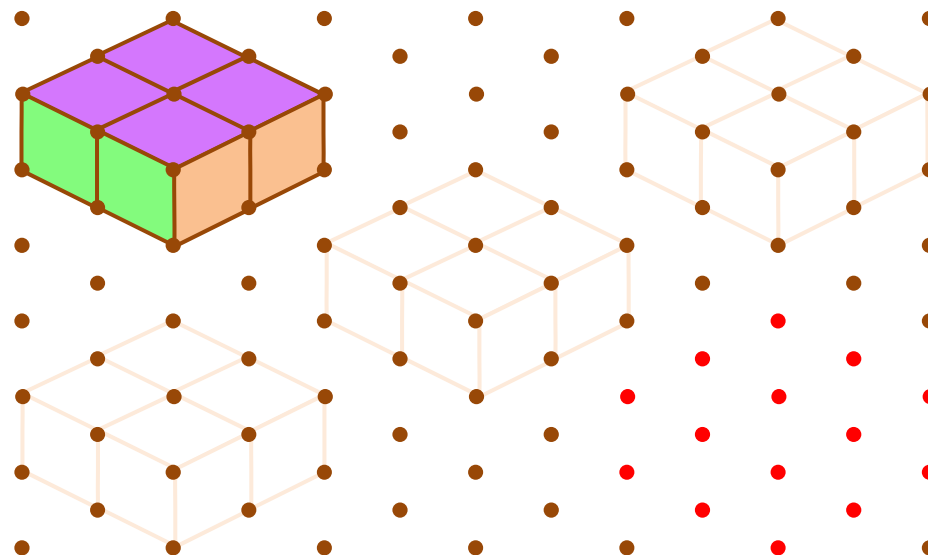
A



B



C




Ada berapa jumlah kubus?


Mana gambar tampak depan?

Mana gambar tampak atas?


Mana gambar tampak samping?



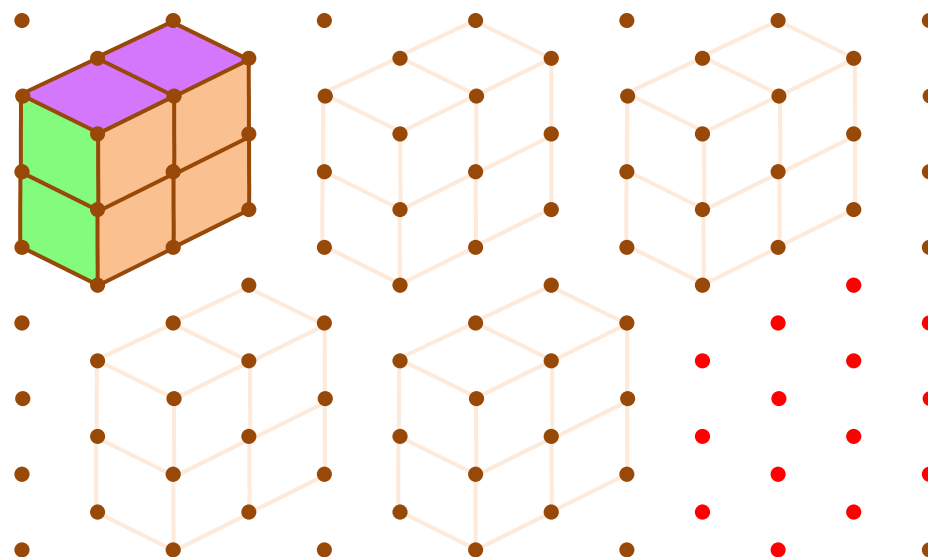
A



B



C



BUKU GRATIS UNTUK ANAK-ANAK • TIDAK UNTUK DIPERJUAL-BELIKAN

BUKU GRATIS UNTUK ANAK-ANAK • TIDAK UNTUK DIPERJUAL-BELIKAN

5

Nama : _____

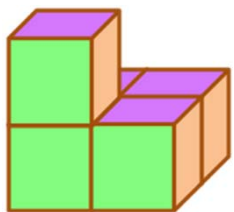
Tanggal : _____

Guru atau orang tua:



Sebelah kiri, lengkapi bagian-bagian yang kosong dengan jawaban yang tepat.
Sebelah kanan, tebalkan garis-garis dan hubungkan titik-titik kubus di atas.



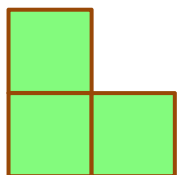


Ada berapa jumlah kubus?


Mana gambar tampak depan?

Mana gambar tampak atas?

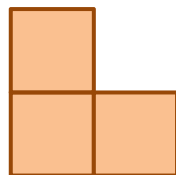
Mana gambar tampak samping?



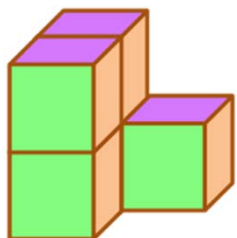
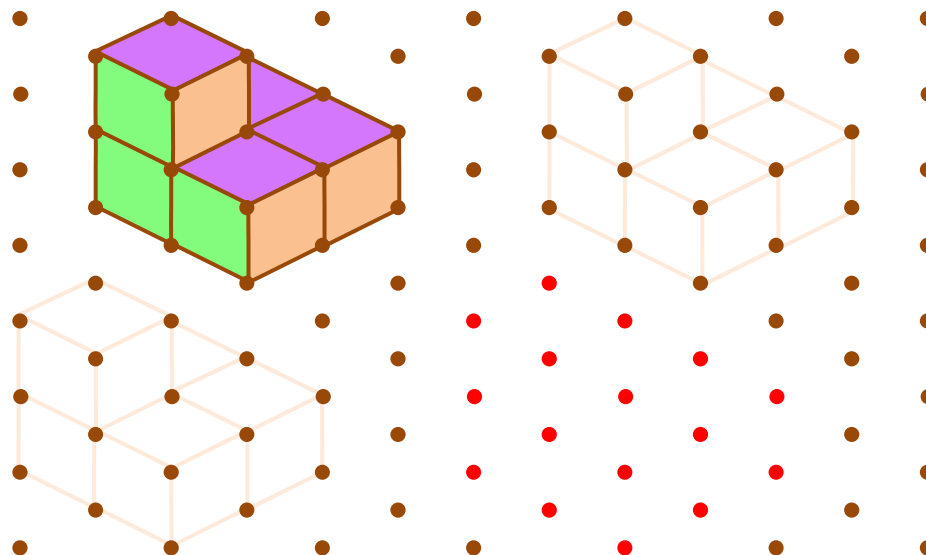
A



B



C




Ada berapa jumlah kubus?


Mana gambar tampak depan?

Mana gambar tampak atas?

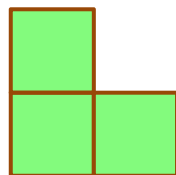
Mana gambar tampak samping?



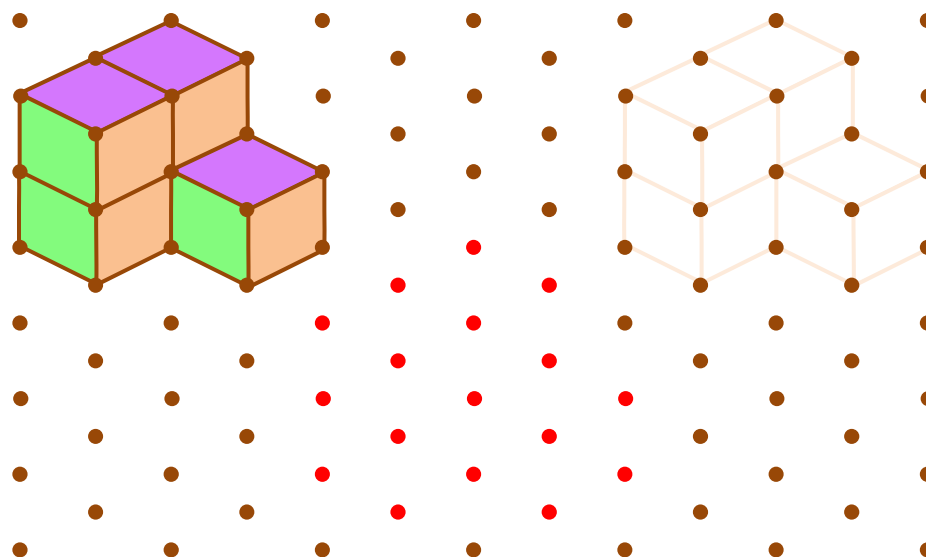
A



B



C



BUKU GRATIS UNTUK ANAK-ANAK • TIDAK UNTUK DIPERJUAL-BELIKAN

BUKU GRATIS UNTUK ANAK-ANAK • TIDAK UNTUK DIPERJUAL-BELIKAN

6

Nama : _____

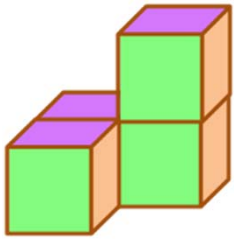
Tanggal : _____

Guru atau orang tua:



Sebelah kiri, lengkapi bagian-bagian yang kosong dengan jawaban yang tepat.
Sebelah kanan, tebalkan garis-garis dan hubungkan titik-titik kubus di atas.






Ada berapa jumlah kubus?

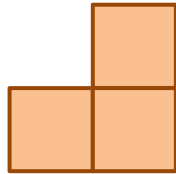
Mana gambar tampak depan?

Mana gambar tampak atas?

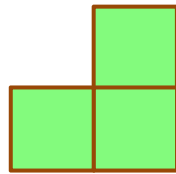
Mana gambar tampak samping?



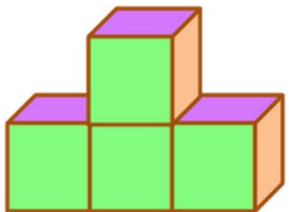
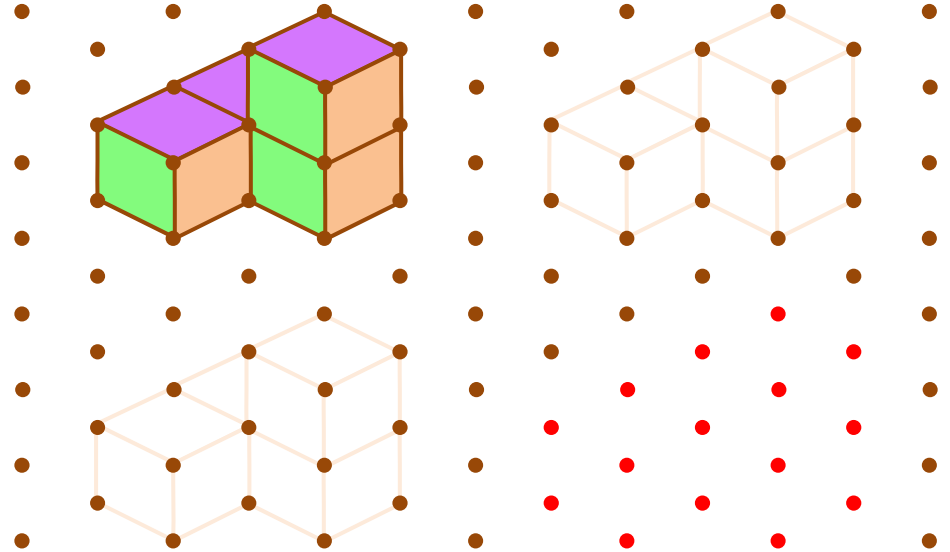
A



B



C




Ada berapa jumlah kubus?

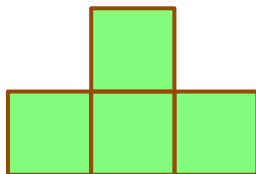
Mana gambar tampak depan?

Mana gambar tampak atas?

Mana gambar tampak samping?



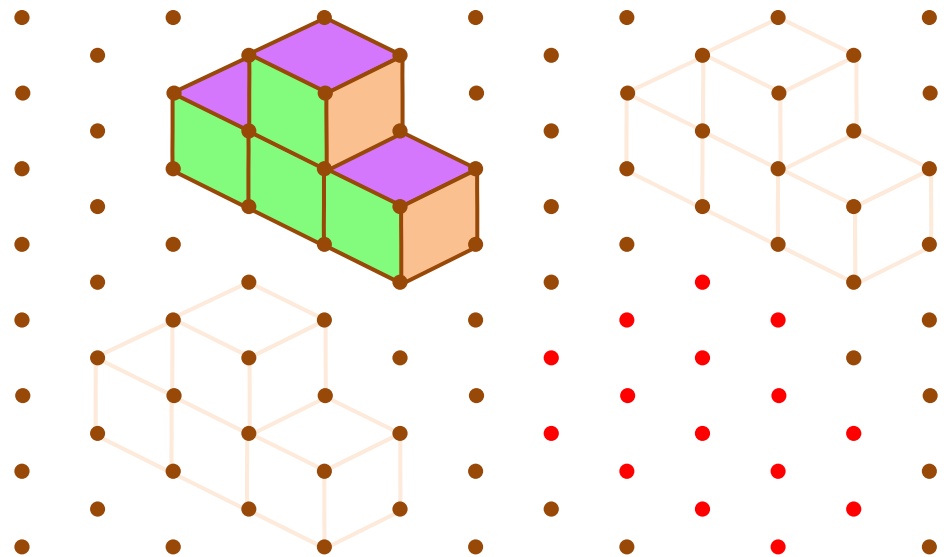
A



B



C



BUKU GRATIS UNTUK ANAK-ANAK • TIDAK UNTUK DIPERJUAL-BELIKAN

BUKU GRATIS UNTUK ANAK-ANAK • TIDAK UNTUK DIPERJUAL-BELIKAN



Nama : _____

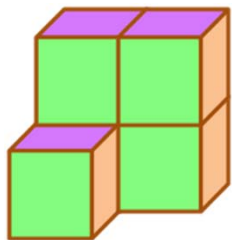
Tanggal : _____

Guru atau orang tua:



Sebelah kiri, lengkapi bagian-bagian yang kosong dengan jawaban yang tepat.
Sebelah kanan, tebalkan garis-garis dan hubungkan titik-titik kubus di atas.



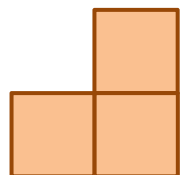


Ada berapa jumlah kubus?

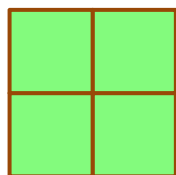
Mana gambar tampak depan?

Mana gambar tampak atas?


Mana gambar tampak samping?



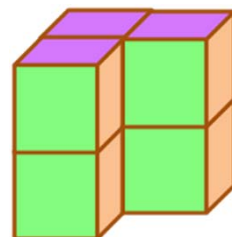



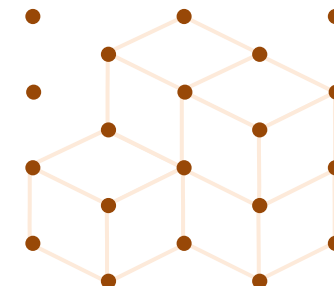

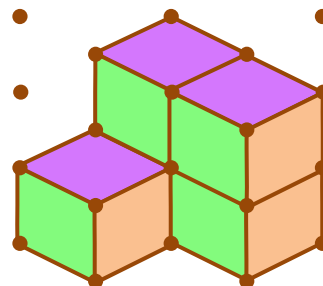
A



B



C




Ada berapa jumlah kubus?


Mana gambar tampak depan?

Mana gambar tampak atas?


Mana gambar tampak samping?






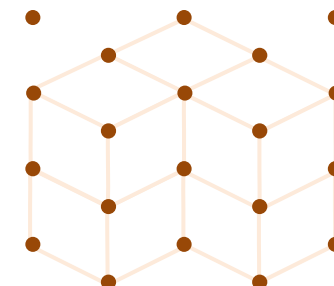

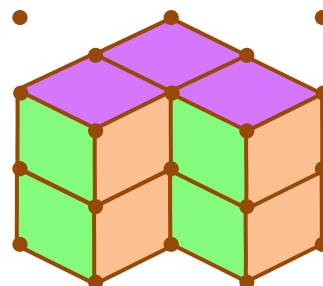
A



B



C



BUKU GRATIS UNTUK ANAK-ANAK • TIDAK UNTUK DIPERJUAL-BELIKAN

BUKU GRATIS UNTUK ANAK-ANAK • TIDAK UNTUK DIPERJUAL-BELIKAN



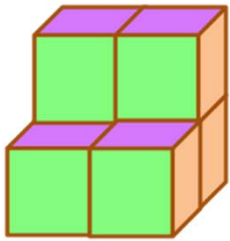
Nama : _____
Tanggal : _____

Guru atau orang tua:



Sebelah kiri, lengkapi bagian-bagian yang kosong dengan jawaban yang tepat.
Sebelah kanan, tebalkan garis-garis dan hubungkan titik-titik kubus di atas.






Ada berapa jumlah kubus?

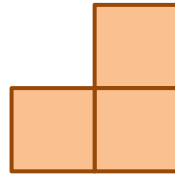
Mana gambar tampak depan?

Mana gambar tampak atas?


Mana gambar tampak samping?



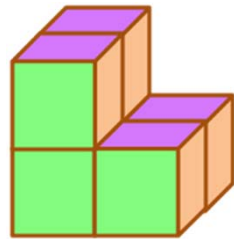



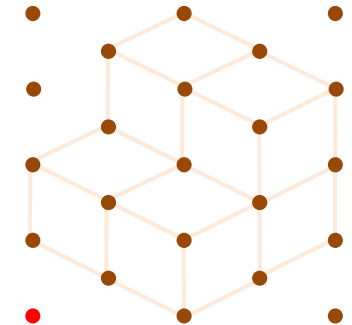

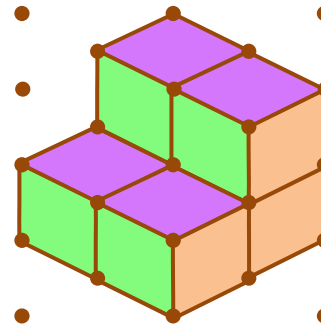
A



B



C




Ada berapa jumlah kubus?

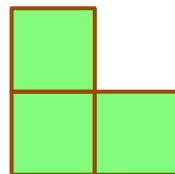
Mana gambar tampak depan?

Mana gambar tampak atas?


Mana gambar tampak samping?






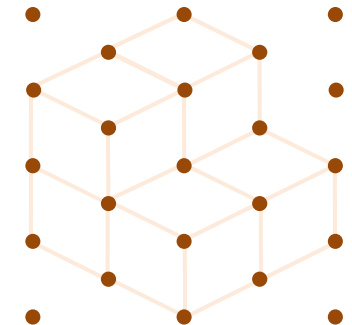

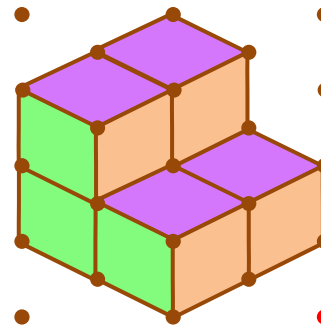
A



B



C



BUKU GRATIS UNTUK ANAK-ANAK • TIDAK UNTUK DIPERJUAL-BELIKAN

BUKU GRATIS UNTUK ANAK-ANAK • TIDAK UNTUK DIPERJUAL-BELIKAN



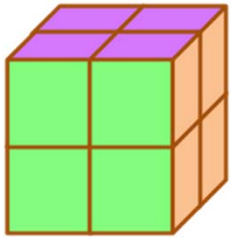
Nama : _____
Tanggal : _____

Guru atau orang tua:



Sebelah kiri, lengkapi bagian-bagian yang kosong dengan jawaban yang tepat.
Sebelah kanan, tebalkan garis-garis dan hubungkan titik-titik kubus di atas.






Ada berapa jumlah kubus?


Mana gambar tampak depan?

Mana gambar tampak atas?


Mana gambar tampak samping?



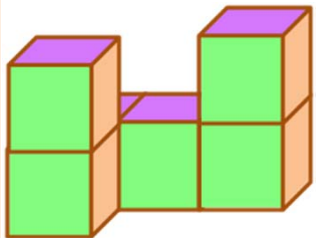
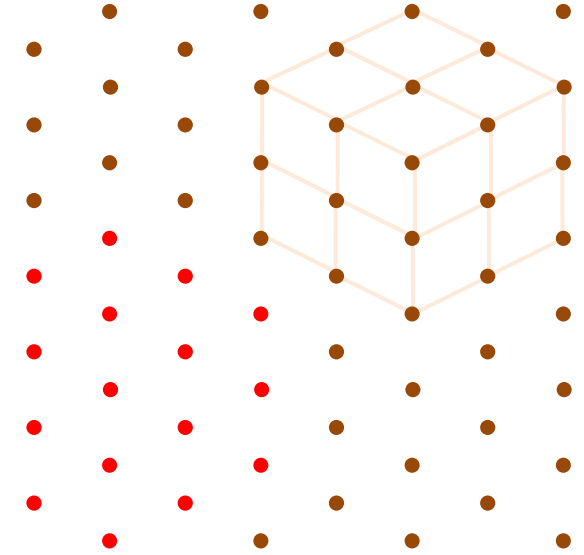
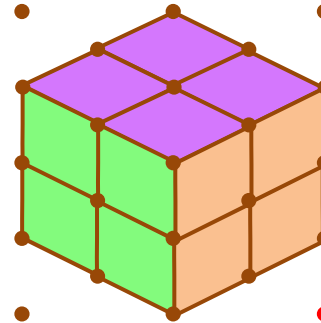
A



B



C




Ada berapa jumlah kubus?

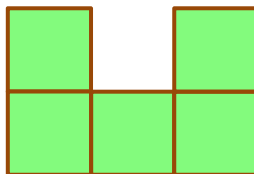
Mana gambar tampak depan?

Mana gambar tampak atas?


Mana gambar tampak samping?



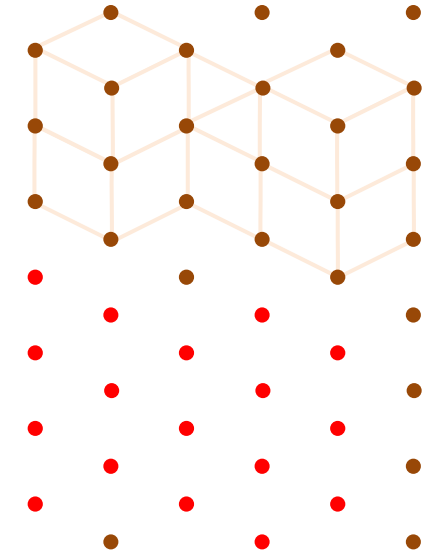
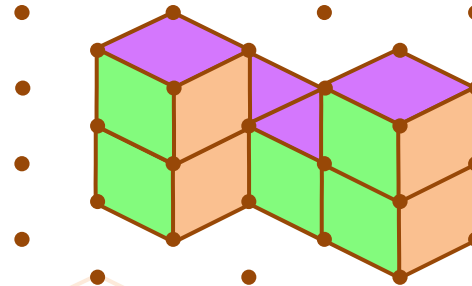
A



B



C



BUKU GRATIS UNTUK ANAK-ANAK • TIDAK UNTUK DIPERJUAL-BELIKAN

BUKU GRATIS UNTUK ANAK-ANAK • TIDAK UNTUK DIPERJUAL-BELIKAN



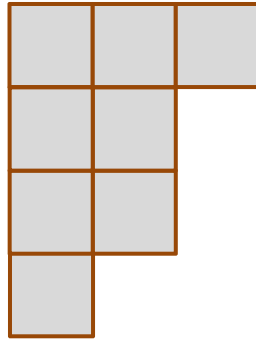
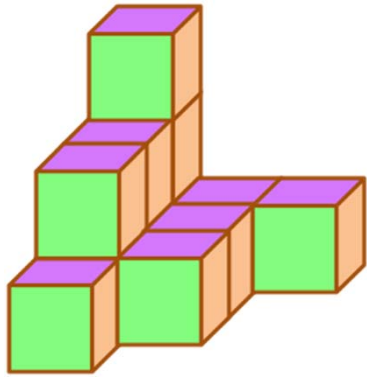
Nama : _____
Tanggal : _____

Guru atau orang tua:

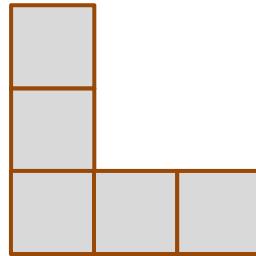


Sebelah kiri, lengkapi bagian-bagian yang kosong dengan jawaban yang tepat.
Sebelah kanan, tebalkan garis-garis dan hubungkan titik-titik kubus di atas.

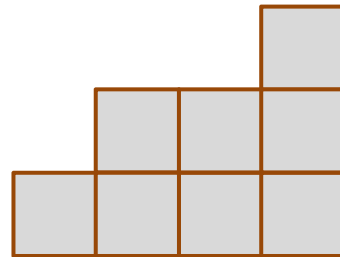




A



B



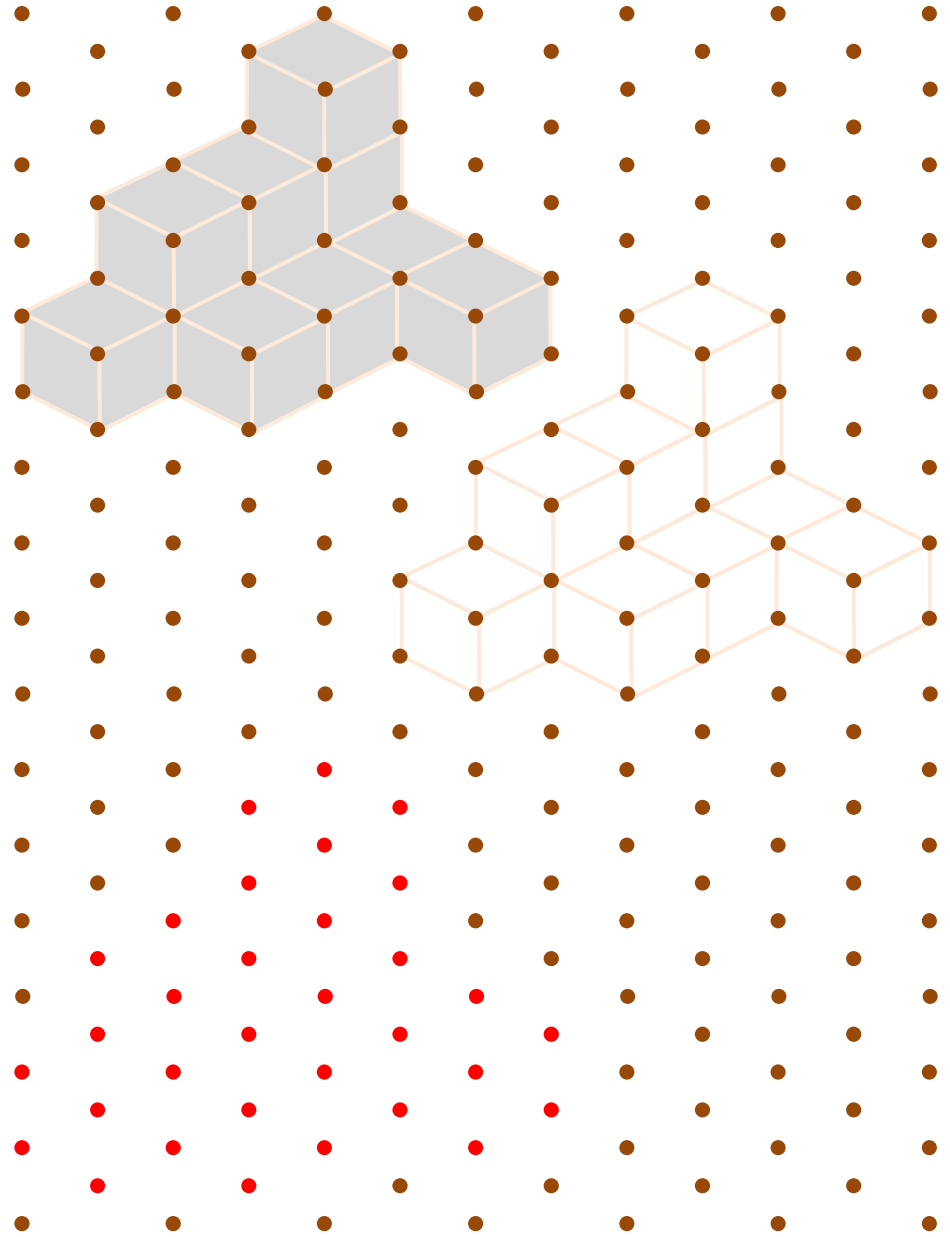
C

Ada berapa
jumlah kubus?

Mana gambar
tampak depan?

Mana gambar
tampak atas?

Mana gambar
tampak samping?



BUKU GRATIS UNTUK ANAK-ANAK • TIDAK UNTUK DIPERJUAL-BELIKAN

BUKU GRATIS UNTUK ANAK-ANAK • TIDAK UNTUK DIPERJUAL-BELIKAN

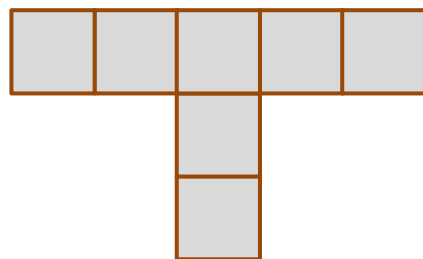
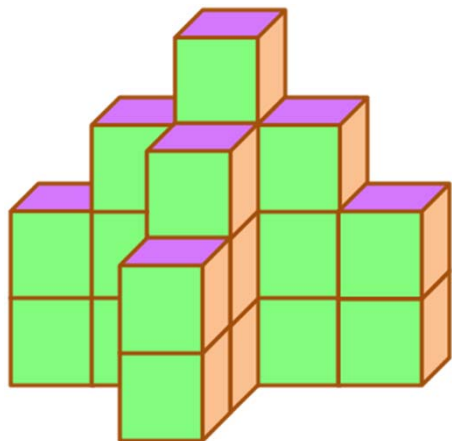


Nama : _____
Tanggal : _____

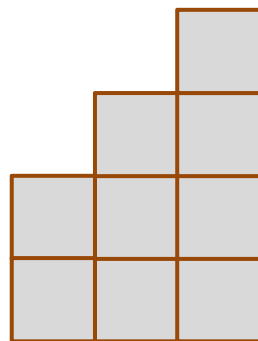
Guru atau orang tua:
😊 😐 ☹️

Sebelah kiri, lengkapi bagian-bagian yang kosong dengan jawaban yang tepat.
Sebelah kanan, tebalkan garis-garis dan hubungkan titik-titik kubus di atas.

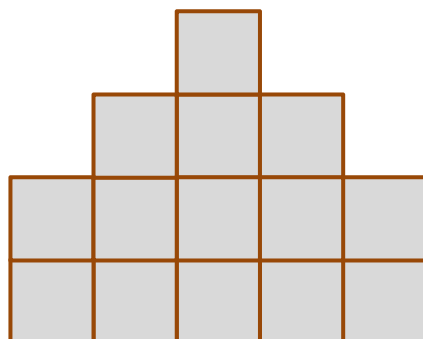




A



B



C


Ada berapa
jumlah kubus?

Mana gambar
tampak depan?

Mana gambar
tampak atas?

Mana gambar
tampak samping?

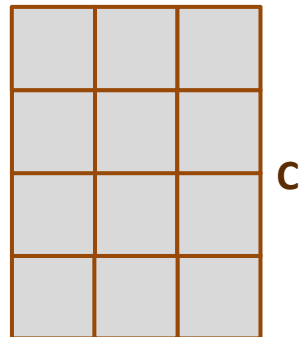
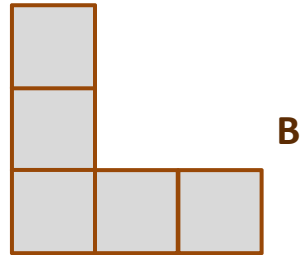

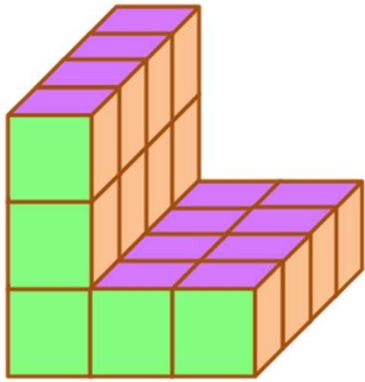
BUKU GRATIS UNTUK ANAK-ANAK • TIDAK UNTUK DIPERJUAL-BELIKAN



BUKU GRATIS UNTUK ANAK-ANAK • TIDAK UNTUK DIPERJUAL-BELIKAN

Sebelah kiri, lengkapi bagian-bagian yang kosong dengan jawaban yang tepat.
Sebelah kanan, tebalkan garis-garis dan hubungkan titik-titik kubus di atas.






Ada berapa
jumlah kubus?

Mana gambar
tampak depan?

Mana gambar
tampak atas?

Mana gambar
tampak samping?



BUKU GRATIS UNTUK ANAK-ANAK • TIDAK UNTUK DIPERJUAL-BELIKAN

BUKU GRATIS UNTUK ANAK-ANAK • TIDAK UNTUK DIPERJUAL-BELIKAN

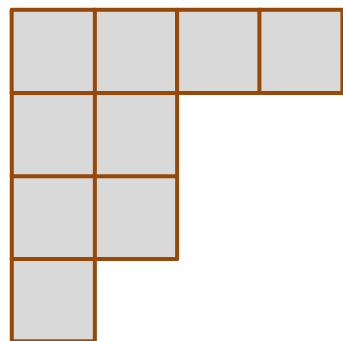
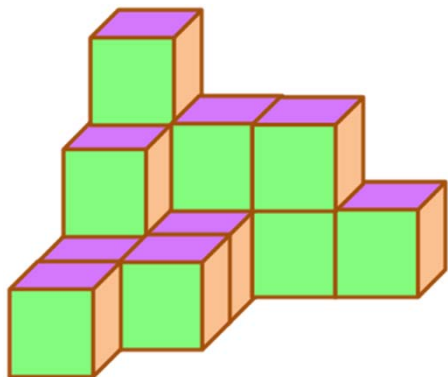
13

Nama : _____
Tanggal : _____

Guru atau orang tua:
😊 😐 ☹️

Sebelah kiri, lengkapi bagian-bagian yang kosong dengan jawaban yang tepat.
Sebelah kanan, tebalkan garis-garis dan hubungkan titik-titik kubus di atas.





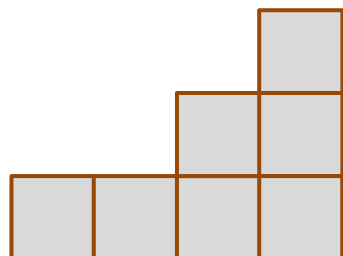
A

Ada berapa
jumlah kubus?

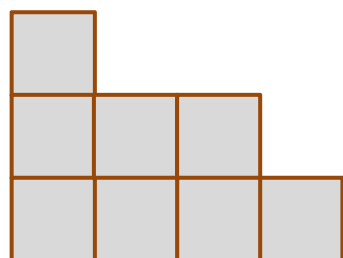
Mana gambar
tampak depan?

Mana gambar
tampak atas?


Mana gambar
tampak samping?



B



C



BUKU GRATIS UNTUK ANAK-ANAK • TIDAK UNTUK DIPERJUAL-BELIKAN

BUKU GRATIS UNTUK ANAK-ANAK • TIDAK UNTUK DIPERJUAL-BELIKAN


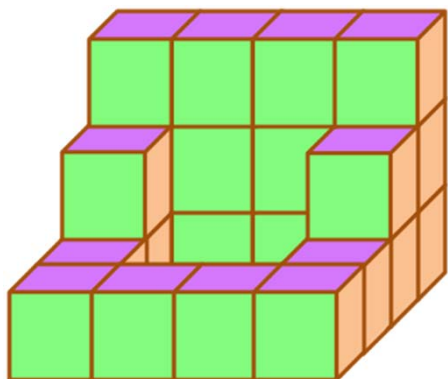
14

Nama : _____
Tanggal : _____


Guru atau orang tua:
😊 😐 😞

Sebelah kiri, lengkapi bagian-bagian yang kosong dengan jawaban yang tepat.
Sebelah kanan, tebalkan garis-garis dan hubungkan titik-titik kubus di atas.

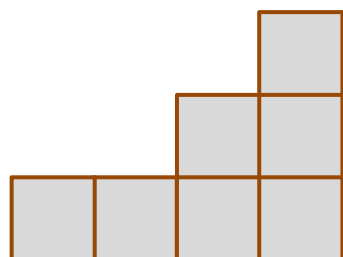




A



B




C

Ada berapa
jumlah kubus?

Mana gambar
tampak depan?

Mana gambar
tampak atas?

Mana gambar
tampak samping?



BUKU GRATIS UNTUK ANAK-ANAK • TIDAK UNTUK DIPERJUAL-BELIKAN

BUKU GRATIS UNTUK ANAK-ANAK • TIDAK UNTUK DIPERJUAL-BELIKAN

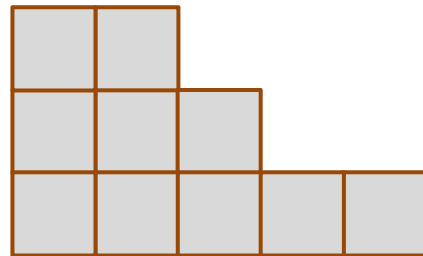
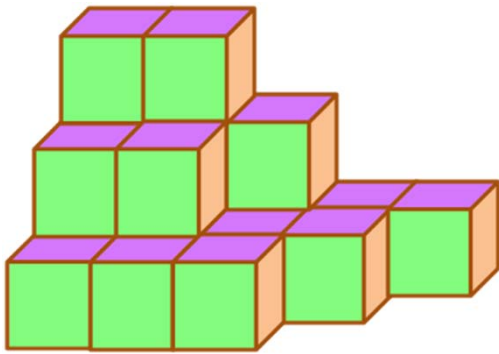
15

Nama : _____
Tanggal : _____

Guru atau orang tua:
😊 😐 ☹️

Sebelah kiri, lengkapi bagian-bagian yang kosong dengan jawaban yang tepat.
Sebelah kanan, tebalkan garis-garis dan hubungkan titik-titik kubus di atas.





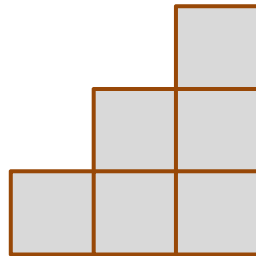
A

Ada berapa
jumlah kubus?

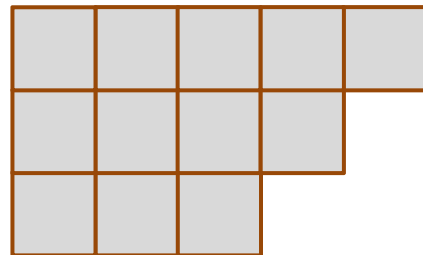
Mana gambar
tampak depan?

Mana gambar
tampak atas?


Mana gambar
tampak samping?



B



C



BUKU GRATIS UNTUK ANAK-ANAK • TIDAK UNTUK DIPERJUAL-BELIKAN

BUKU GRATIS UNTUK ANAK-ANAK • TIDAK UNTUK DIPERJUAL-BELIKAN

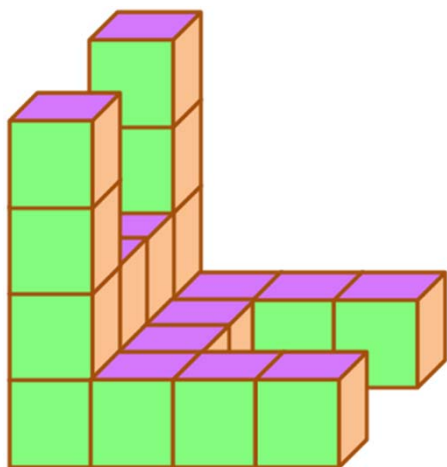
16

Nama : _____
Tanggal : _____

Guru atau orang tua:
😊 😐 😞

Sebelah kiri, lengkapi bagian-bagian yang kosong dengan jawaban yang tepat.
Sebelah kanan, tebalkan garis-garis dan hubungkan titik-titik kubus di atas.



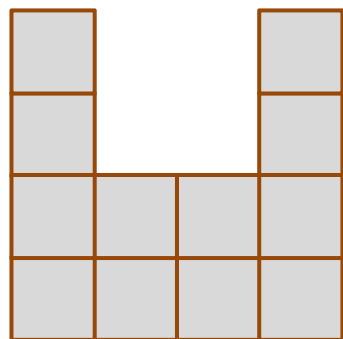


Ada berapa
jumlah kubus?

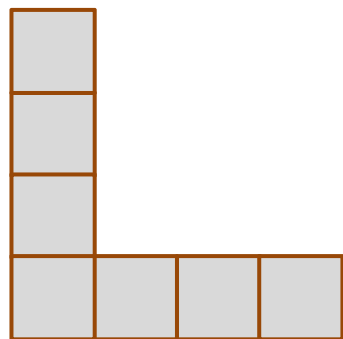
Mana gambar
tampak depan?

Mana gambar
tampak atas?


Mana gambar
tampak samping?




A



B



C



BUKU GRATIS UNTUK ANAK-ANAK • TIDAK UNTUK DIPERJUAL-BELIKAN

BUKU GRATIS UNTUK ANAK-ANAK • TIDAK UNTUK DIPERJUAL-BELIKAN

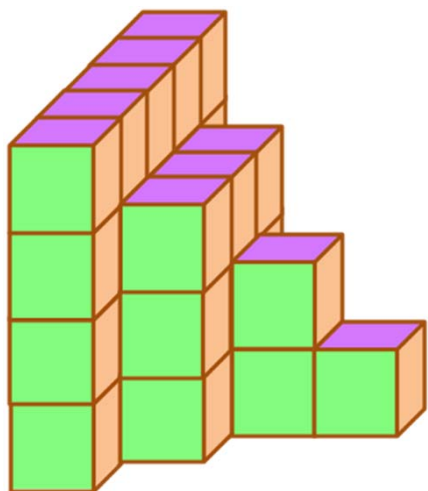
17

Nama : _____
Tanggal : _____

Guru atau orang tua:
😊 😐 ☹️

Sebelah kiri, lengkapi bagian-bagian yang kosong dengan jawaban yang tepat.
Sebelah kanan, tebalkan garis-garis dan hubungkan titik-titik kubus di atas.



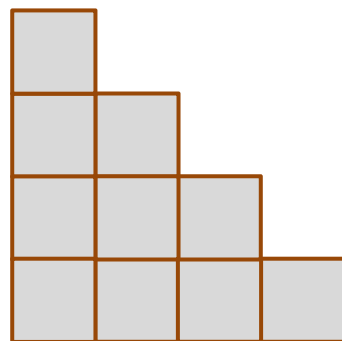


Ada berapa
jumlah kubus?

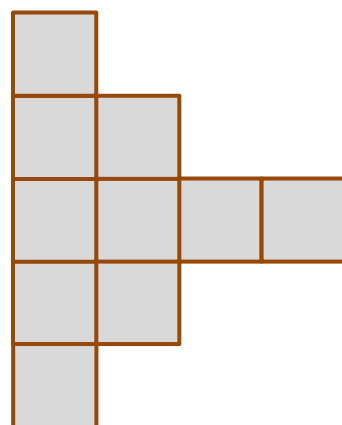
Mana gambar
tampak depan?

Mana gambar
tampak atas?


Mana gambar
tampak samping?




A



B



C



BUKU GRATIS UNTUK ANAK-ANAK • TIDAK UNTUK DIPERJUAL-BELIKAN

BUKU GRATIS UNTUK ANAK-ANAK • TIDAK UNTUK DIPERJUAL-BELIKAN

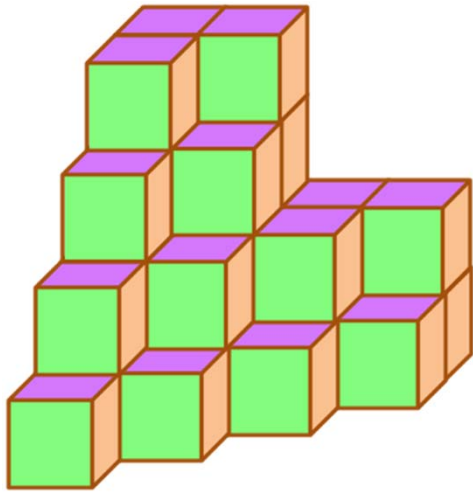
18

Nama : _____
Tanggal : _____

Guru atau orang tua:
😊 😐 ☹️

Sebelah kiri, lengkapi bagian-bagian yang kosong dengan jawaban yang tepat.
Sebelah kanan, tebalkan garis-garis dan hubungkan titik-titik kubus di atas.



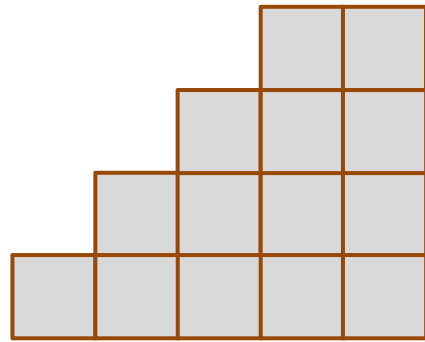


Ada berapa
jumlah kubus?

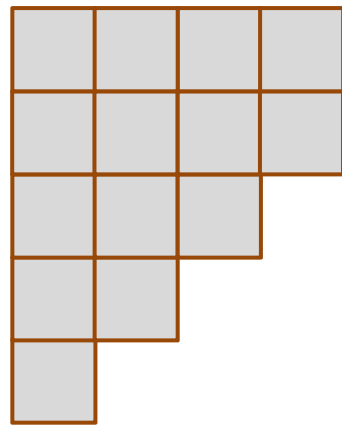
Mana gambar
tampak depan?

Mana gambar
tampak atas?

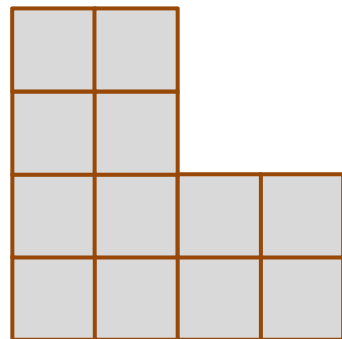
Mana gambar
tampak samping?



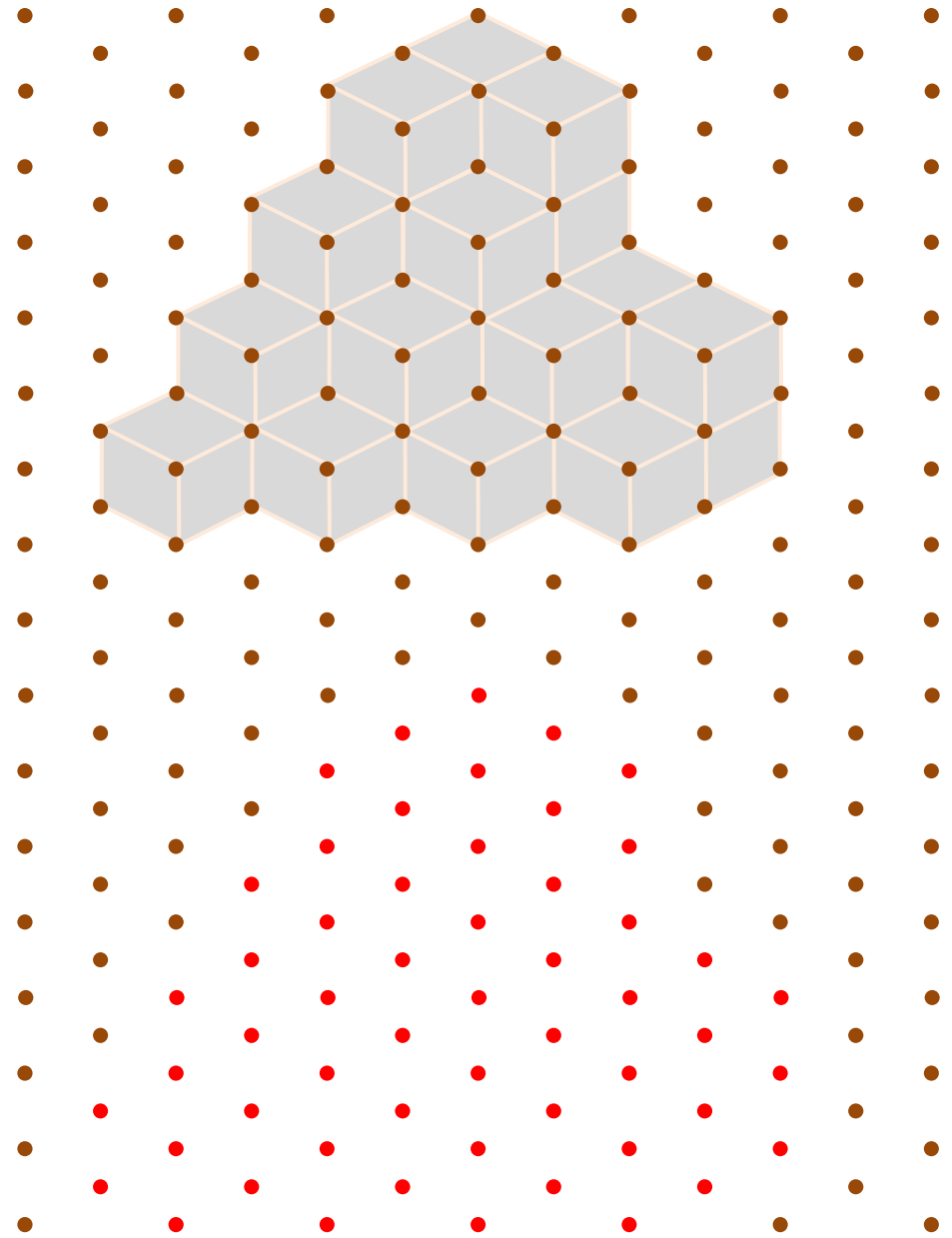
A



B



C



BUKU GRATIS UNTUK ANAK-ANAK • TIDAK UNTUK DIPERJUAL-BELIKAN

BUKU GRATIS UNTUK ANAK-ANAK • TIDAK UNTUK DIPERJUAL-BELIKAN

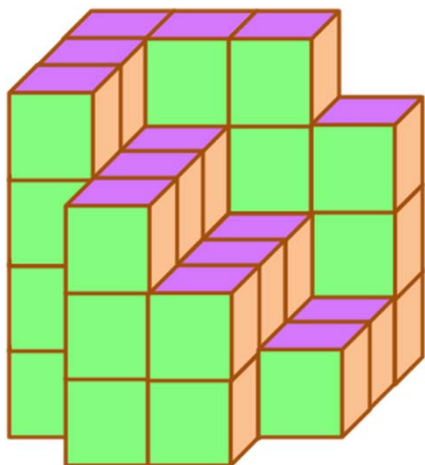
19

Nama : _____
Tanggal : _____

Guru atau orang tua:
😊 😐 ☹️

Sebelah kiri, lengkapi bagian-bagian yang kosong dengan jawaban yang tepat.
Sebelah kanan, tebalkan garis-garis dan hubungkan titik-titik kubus di atas.



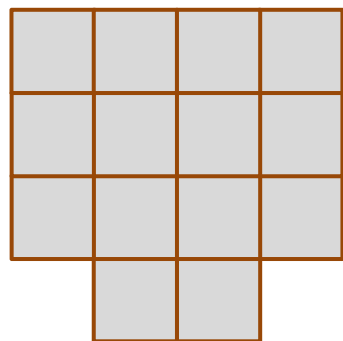


Ada berapa
jumlah kubus?

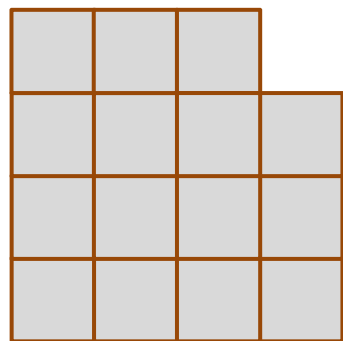
Mana gambar
tampak depan?

Mana gambar
tampak atas?

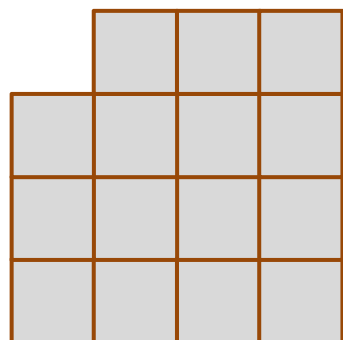
Mana gambar
tampak samping?




A



B



C



BUKU GRATIS UNTUK ANAK-ANAK • TIDAK UNTUK DIPERJUAL-BELIKAN

BUKU GRATIS UNTUK ANAK-ANAK • TIDAK UNTUK DIPERJUAL-BELIKAN

20

Nama : _____
Tanggal : _____

Guru atau orang tua:
😊 😐 😞

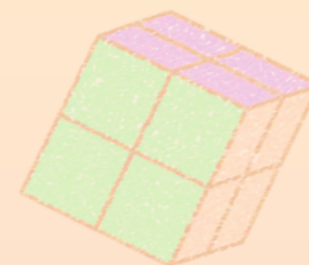
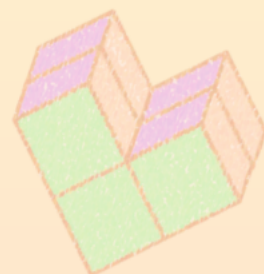

Sebelah kiri, lengkapi bagian-bagian yang kosong dengan jawaban yang tepat.
Sebelah kanan, tebalkan garis-garis dan hubungkan titik-titik kubus di atas.



KUNCI JAWABAN

HALAMAN	JUMLAH KUBUS	TAMPAK DEPAN	TAMPAK ATAS	TAMPAK SAMPING
1	1	B	C	A
	2	B	A	C
2	2	C	A	B
	2	A	C	B
3	3	B	C	A
	3	A	B	C
4	3	C	A	B
	3	B	C	A
5	4	B	C	A
	4	A	B	C
6	5	A	B	C
	5	C	A	B
7	4	C	A	B
	4	B	A	C
8	5	B	C	A
	6	C	A	B

HALAMAN	JUMLAH KUBUS	TAMPAK DEPAN	TAMPAK ATAS	TAMPAK SAMPING
9	6	A	C	B
	6	B	A	C
10	8	C	B	A
	6	B	C	A
11	12	B	A	C
12	19	C	A	B
13	20	B	C	A
14	14	C	A	B
15	22	A	B	C
16	19	A	C	B
17	20	B	C	A
18	32	A	B	C
19	32	C	B	A
20	40	B	A	C
-	-	-	-	-
-	-	-	-	-



Peace of Mind Education

<http://peaceofmindeducationindonesia.wordpress.com>

